

# 「お金の計算①」

お金が合計いくらあるか、それぞれ数えてみましょう！

**A**




答 182 円

**B**



答 622 円

**C**



答 776 円

# 「お金の計算②」

お金が合計いくらあるか、それぞれ数えてみましょう！

**A**




答 133 円

**B**



答 291 円

**C**



答 1757 円

# 「お金の計算③」

お金が合計いくらあるか、それぞれ数えてみましょう！

**A**

答 233 円

**B**

答 777 円

**C**

答 1330 円

# 「お金の計算④」

お金が合計いくらあるか、それぞれ数えてみましょう！


**A**



100円硬貨 2枚、10円硬貨 2枚、1円硬貨 7枚

答 90 円


**B**



500円硬貨 2枚、100円硬貨 4枚、50円硬貨 4枚

答 1601 円

**C**



500円硬貨 2枚、100円硬貨 1枚、10円硬貨 2枚、5円硬貨 2枚、1円硬貨 2枚

答 1147 円

# 「お金の計算⑤」

お金が合計いくらあるか、それぞれ数えてみましょう！

**A**



答 208 円

**B**



答 1372 円

**C**



答 1818 円

# 「お金の計算⑥」

お金が合計いくらあるか、それぞれ数えてみましょう！

**A**




答 797 円

**B**



答 933 円

**C**



答 1278 円

# 「お金の計算⑦」


お金が合計いくらあるか、それぞれ数えてみましょう！

**A**



答 **1383** 円

**B**



答 **947** 円

**C**



答 **132** 円

# 「お金の計算⑧」

お金が合計いくらあるか、それぞれ数えてみましょう！

**A**



答 853 円

**B**



答 412 円

**C**



答 1065 円



# 「お金の計算⑨」


お金が合計いくらあるか、それぞれ数えてみましょう！

**A**




答 **1250** 円

**B**



答 **120** 円

**C**



答 **1656** 円

# 「お金の計算⑩」

お金が合計いくらあるか、それぞれ数えてみましょう！

**A**

答 1350 円

**B**

答 1051 円

**C**

答 276 円